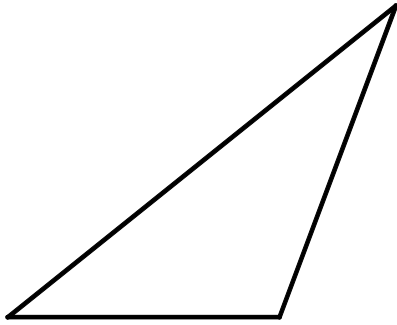


## OPCIÓN B

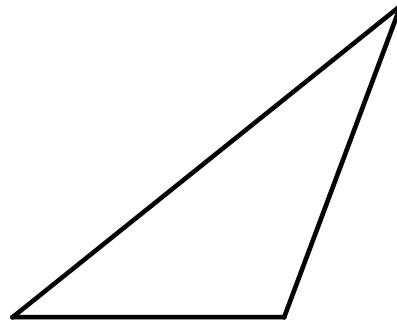
### PARTE I : GEOMETRÍA MÉTRICA

Calificación máxima: 2.5 puntos

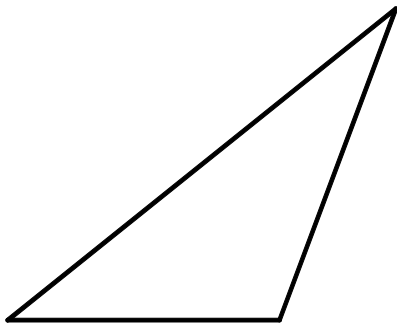
Determinar gráficamente el **BARICENTRO**, **CIRCUNCENTRO**, **INCENTRO** y **ORTOCENTRO** de los triángulos en el lugar que se indica, dejando en cada caso las construcciones necesarias para su obtención.



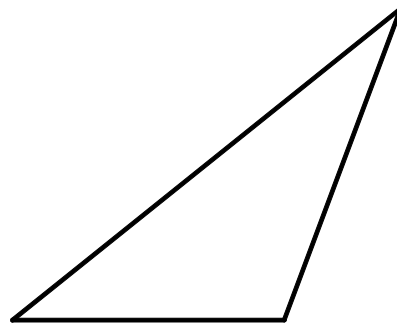
baricentro



circuncentro



incentro



ortocentro

## OPCIÓN B

### PARTE I: GEOMETRÍA MÉTRICA

Calificación máxima: 2.5 puntos

Determinar gráficamente el **BARICENTRO**, **CIRCUNCENTRO**, **INCENTRO** y **ORTOCENTRO** de los triángulos en el lugar que se indica, dejando en cada caso las construcciones necesarias para su obtención.

